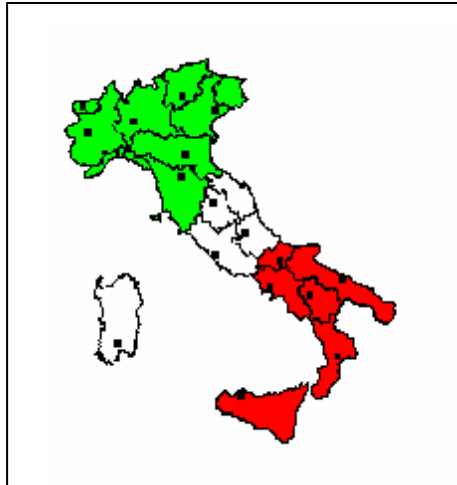


Freiarbeitsplan Erdkunde

ITALIEN



Station 9: Ein Blick auf die Bevölkerung und die politische Gliederung Italiens

Name: _____ Klasse: _____ zu erledigen bis: _____

Nr.	Titel	erledigt am	gesehen am	geprüft am
1	Bevölkerung			
	☺ Auftrag a Einige detaillierte Informationen über Italiens Bevölkerung aufnehmen (Einzelarbeit)			
Diff.	☺ Auftrag a1 Grundlegende Informationen über Italiens Bevölkerung aufnehmen (Einzelarbeit)			

2	Bedeutende Städte			
	☺ <u>Auftrag b</u> Einige bedeutende Städte und deren Sehenswürdigkeiten kennen lernen (Partnerarbeit)			
3	Der italienische Staat - Verwaltungsgliederung			
	☺ <u>Auftrag c</u> Grundbegriffe und Verwaltungsaufbau des italienischen Staates kennen lernen (Einzelarbeit)			
	☺ <u>Auftrag d</u> Detailliertes Wissen über Italiens Staats- und Regierungsform erwerben (Einzelarbeit)			
	☺ <u>Auftrag e</u> Detailliertes Wissen über die politische Gliederung Italiens und die Autonomie einzelner Regionen erwerben (Einzelarbeit)			
Diff.	☺ <u>Auftrag cde1</u> In groben Zügen den Staat Italien in politischer Hinsicht kennen lernen (Einzelarbeit)			

LERNZIELE:

- 1.) Du verfügst über ein detailliertes Wissen über Italiens Bevölkerung.
- 2.) Du lernst einige bedeutende italienische Städte und deren Sehenswürdigkeiten kennen.
- 3.) Du verstehst Grundbegriffe, die den Staat Italien in politischer Hinsicht betreffen.
- 4.) Du kennst den Verwaltungsaufbau Italiens.
- 5.) Du verfügst über ein detailliertes Wissen über die politische Gliederung Italiens und die Autonomie einzelner Regionen.

DIFFERENZIERTE LERNZIELE:

- 1.) Du verfügst über ein grundlegendes Wissen über Italiens Bevölkerung.
- 2.) Du lernst einige bedeutende italienische Städte und deren Sehenswürdigkeiten kennen.
- 3.) Du verstehst einige Grundbegriffe, die den Staat Italien in politischer Hinsicht betreffen.
- 4.) Du kennst den Verwaltungsaufbau Italiens in groben Zügen.
- 5.) Du verstehst den Begriff „Autonomie“ und kennst die Regionen, die über eine solche verfügen.

1. Bevölkerung

☺ Auftrag a

Einige detaillierte Informationen über Italiens Bevölkerung aufnehmen (Einzelarbeit)

Lies dir zunächst den Informationstext (Informationsblatt 1 und 2) über Einwohnerzahl, Bevölkerungsdichte, Nord-Süd-Gefälle, Wirtschaftsstruktur usw. aufmerksam durch. Einiges darin ist dir sicherlich schon bekannt, einige Informationen werden neu für dich sein. Teste dann an Hand von Arbeitsblatt 1, wie viel du dir über Italiens Bevölkerung gemerkt hast. Anschließend kannst du dann mit Lösungsblatt 1 deine Ergebnisse überprüfen, evtl. ausbessern und ergänzen.

Informationsblatt 1: Bevölkerung

Weißt du, dass

- Italiens Gesamtfläche rund **300 000 km²** umfasst und das Land damit den **achten** Platz im europäischen Vergleich einnimmt?
- in Italien rund **58 000 000 Menschen** leben und damit die *Bevölkerungsdichte** **192 Einwohner pro km²** beträgt? Innerhalb der Europäischen Union liegt das Land damit auf dem **vierten** Rang hinter Deutschland, Frankreich und Großbritannien.
- viele Menschen in Italien **abwandern** mussten, um sich ein geregeltes Einkommen zu sichern? So gab es neben der Abwanderung **ins Ausland** auch große Wanderbewegungen innerhalb des Landes, nämlich **vom Berg ins Tal, vom Inneren an die Küste** und **vom Süden in den Norden**. Die Folge dieser *Landflucht* war eine starke *Verstädterung*. Mittlerweile sind die großen Abwanderungsraten stark zurückgegangen, Aus- und Rückwanderer halten sich nun die Waage.
- etwa 67 Prozent der italienischen Bevölkerung in Städten wohnen?
- ein sehr starkes **Nord-Süd-Gefälle**, also eine auffällige Zweiteilung des Landes charakteristisch für Italien ist? Der **stark industrialisierte Norden** mit seinen großen Wirtschaftszentren und Metropolen verfügt über einen gut entwickelten *Dienstleistungssektor* und ist somit wirtschaftlich mit anderen europäischen Ländern vergleichbar. Der **Süden des Landes**, auch **Mezzogiorno** genannt, ist eine der strukturschwächsten Regionen der EU und ist noch immer **stark landwirtschaftlich** geprägt. Die Folge davon sind sehr hohe Arbeitslosenraten, die für die Jugend besonders schlimm sind, eine erhöhte Kriminalitätsrate und nicht zuletzt das kontrollierte Verbrechen, das besonders auf Sizilien die Macht über viele Wirtschaftszweige ausübt.
- etwa **90 Prozent** der Italiener Anhänger des **römisch-katholischen** Glaubens sind? Zum Protestantismus bekennen sich etwa 50 000 Einwohner, zum Judentum rund 35 000. Die in Italien lebenden Muslime sind meist Bosnier, die während des Bosnisch-Kroatisch-Serbischen Krieges hierher kamen.
- Italien weltweit das **Land mit der ältesten Bevölkerung** ist? Die *Lebenserwartung* liegt bei den Männern bei 76 Jahren, bei Frauen bei 83 Jahren. Rund 19 Prozent der Italiener sind älter als 65 Jahre. Die Italiener führen somit vor den Griechen und den Schweden die Liste der „langlebigsten“ Bevölkerung an. Als Grund wird oft die Ernährung des Volkes angeführt, vor allem die Zubereitung der Speisen mit Olivenöl.
- Italien mit ca. 52 Millionen Hektolitern nach Frankreich der **zweitgrößte Weinproduzent** der Welt ist?

* Die kursiv gedruckten Begriffe werden dir auf der nächsten Seite noch genauer erklärt!

Informationsblatt 2: Bevölkerung

Begriffserklärung

Bevölkerungsdichte

Darunter versteht man die Zahl der Einwohner eines Gebietes im Vergleich zur Gesamtfläche.

Landflucht

Wenn viele Bewohner aus Dörfern und anderen ungünstigen Gebieten abwandern, um sich in einer Stadt oder im Ausland einen Arbeitsplatz zu suchen, so entvölkert sich der ländliche Raum. Hauptsächlich alte Leute bleiben zurück, abgelegene Siedlungen und Dörfer sterben völlig aus, die Häuser verfallen, die Felder werden nicht mehr bearbeitet. Diesen Vorgang bezeichnet man als Landflucht.

Verstädterung

Im Gegensatz zur Landflucht steht die Verstädterung. In dem Maße, in dem sich der ländliche Raum entvölkert, nimmt die Bevölkerung in den Städten zu.

Dienstleistungssektor

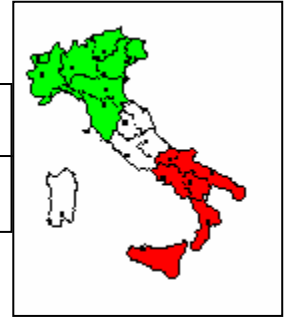
Darunter versteht man jenen Wirtschaftsbereich, der keine Waren hervorbringt, sondern Dienste an der Gesellschaft leistet. Dazu zählen u.a. Handel, Verkehr, Banken, Versicherungen, Gaststätten und Hotels.

Lebenserwartung

Darunter versteht man die durchschnittliche Lebensdauer eines Menschen.

Name: _____ Klasse: _____ Datum: _____

Arbeitsblatt 1: Bevölkerung



Teste dein Gedächtnis!

- 1.) Wie viel beträgt die Gesamtfläche Italiens? _____
- 2.) Welchen Platz nimmt Italien hinsichtlich der Gesamtfläche im europäischen Vergleich ein? _____
- 3.) Wie viele Einwohner hat Italien? _____
- 4.) Spricht man in Italien von einer hohen oder von einer niedrigen Bevölkerungsdichte?

- 5.) Aus welchem Grund fand in Italien eine starke Abwanderung statt? _____

- 6.) Welche vier Arten von Wanderbewegungen waren in Italien zu beobachten? _____

- 7.) Wie viel Prozent der italienischen Bevölkerung leben in Städten? _____
- 8.) Inwiefern spricht man in Italien von einem starken Nord-Süd-Gefälle? _____

- 9.) Welchem Glauben gehören etwa 90 Prozent der Italiener an? _____
- 10.) Wie hoch ist in Italien die Lebenserwartung der Frauen, wie hoch jene der Männer? _____

- 11.) Worin liegt vermutlich der Hauptgrund für die hohe Lebenserwartung der Italiener? _____

- 12.) In welchem Bereich liegt Italien nach Frankreich an zweiter Stelle? _____

Lösungsblatt 1: Bevölkerung

- 1.) Wie viel beträgt die Gesamtfläche Italiens? **300 000 km²**
- 2.) Welchen Platz nimmt Italien hinsichtlich der Gesamtfläche im europäischen Vergleich ein? **den achten Platz**
- 3.) Wie viele Einwohner hat Italien? **rund 58 000 000**
- 4.) Spricht man in Italien von einer hohen oder von einer niedrigen Bevölkerungsdichte?
von einer hohen Bevölkerungsdichte
- 5.) Aus welchem Grund fand und findet in Italien eine starke Abwanderung statt? **Die Menschen fanden und finden in ländlichen Gebieten kaum Arbeit und erhoffen und erhofften sich in den Städten oder im Ausland bessere Verdienstmöglichkeiten.**
- 6.) Welche vier Arten von Wanderbewegungen sind in Italien zu beobachten?
Abwanderung ins Ausland, vom Berg ins Tal, vom Inneren an die Küsten und vom Süden in den Norden
- 7.) Wie viel Prozent der italienischen Bevölkerung leben in Städten? **etwa 67 Prozent**
- 8.) Inwiefern spricht man in Italien von einem starken Nord-Süd-Gefälle?
Das Land ist zweigeteilt: Dem stark industrialisierten Norden mit seinen Wirtschaftszentren, Metropolen und seinem gut entwickelten Dienstleistungssektor steht der wirtschaftlich schwache, vorwiegend landwirtschaftlich geprägte Süden gegenüber.
- 9.) Welchem Glauben gehören etwa 90 Prozent der Italiener an? **dem römisch-katholischen**
- 10.) Wie hoch ist in Italien die Lebenserwartung der Frauen, wie hoch jene der Männer?
Lebenserwartung der Frauen: 83 Jahre, Lebenserwartung der Männer: 76 Jahre
- 11.) Worin liegt vermutlich der Hauptgrund für die hohe Lebenserwartung der Italiener?
in der gesunden Ernährung (Olivenöl)
- 12.) In welchem Bereich liegt Italien nach Frankreich an zweiter Stelle?
in der Weinproduktion

Differenzierung: ☺ Auftrag a1

Grundlegende Informationen über Italiens Bevölkerung aufnehmen (Einzelarbeit)

Lies dir zunächst den Informationstext (Informationsblatt 3) über Einwohnerzahl, Gebietsfläche, Religion usw. aufmerksam durch. Einiges darin ist dir sicherlich schon bekannt, einige Informationen werden neu für dich sein. Teste dann an Hand von Arbeitsblatt 2, wie viel du dir über Italiens Bevölkerung gemerkt hast. Anschließend kannst du dann mit Lösungsblatt 2 deine Ergebnisse überprüfen, evtl. ausbessern und ergänzen.

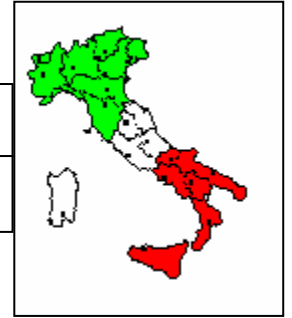
Informationsblatt 3: Bevölkerung

Weißt du, dass

- Italiens Gesamtfläche rund **300 000 km²** umfasst und das Land damit den **achten** Platz im europäischen Vergleich einnimmt?
- in Italien rund **58 000 000 Menschen** leben und das Land damit auf dem **vierten** Platz hinter Deutschland, Frankreich und Großbritannien liegt?
- viele Menschen in Italien **abwandern** mussten, um eine Arbeit zu finden? So zogen viele **ins Ausland**, andere **vom Berg ins Tal**, wieder andere **vom Inneren des Landes an die Küste** und **vom Süden in den Norden**.
- in Italien eine auffällige Zweiteilung des Landes zu beobachten ist? Auf der einen Seite steht der **Norden des Landes**, der **stark industrialisiert** ist und wo sich große Städte und Wirtschaftszentren befinden. Auf der anderen Seite steht der **Süden des Landes**, auch **Mezzogiorno** genannt, wo noch sehr viel Landwirtschaft betrieben wird und der wirtschaftliche Fortschritt nur langsam voran geht.
- etwa **90 Prozent** der Italiener dem **römisch-katholischen** Glauben angehören?
- Italien weltweit das **Land mit der ältesten Bevölkerung** ist? Die Männer werden durchschnittlich 76 Jahre, die Frauen 83 Jahre alt. Als Grund wird oft die Ernährung des Volkes angeführt, vor allem die Zubereitung der Speisen mit Olivenöl.
- Italien mit ca. 52 Millionen Hektolitern nach Frankreich der **zweitgrößte Weinproduzent** der Welt ist?

Name: _____ Klasse: _____ Datum: _____

Arbeitsblatt 2: Bevölkerung



Teste dein Gedächtnis!

1.) Wie viel beträgt die Gesamtfläche Italiens? _____

2.) Wie viele Einwohner hat Italien? _____

3.) Warum mussten in Italien viele Menschen ins Ausland oder in große Städte an den Küsten oder im Norden des Landes ziehen?

4.) Das Land Italien ist in wirtschaftlicher Hinsicht zweigeteilt. Erkläre!

5.) Welchem Glauben gehören etwa 90 Prozent der Italiener an?

6.) Wie alt werden durchschnittlich die Männer in Italien, wie alt die Frauen? _____

7.) Worin liegt vermutlich der Hauptgrund für das hohe Alter der Italiener?

8.) In welchem Bereich liegt Italien nach Frankreich an zweiter Stelle?

Lösungsblatt 2: Bevölkerung

1.) Wie viel beträgt die Gesamtfläche Italiens? **300 000 km²**

2.) Wie viele Einwohner hat Italien? **etwa 58 000 000**

3.) Warum müssen in Italien viele Menschen ins Ausland oder in große Städte an den Küsten oder im Norden des Landes ziehen?

Viele Menschen müssen abwandern, weil sie Arbeit suchen, die sie in den ländlichen Gebieten des Landes kaum noch finden.

4.) Das Land Italien ist in wirtschaftlicher Hinsicht zweigeteilt. Erkläre!

Im Norden des Landes sind viele Industrien, dort liegen auch viele große Städte und Wirtschaftszentren. Im Süden des Landes hingegen wird noch sehr viel Landwirtschaft betrieben und der wirtschaftliche Fortschritt schreitet nur langsam voran.

5.) Welchem Glauben gehören etwa 90 Prozent der Italiener an?

dem römisch-katholischen Glauben

6.) Wie alt werden durchschnittlich die Männer in Italien, wie alt die Frauen? **Männer 76 Jahre, Frauen 83 Jahre**

7.) Worin liegt vermutlich der Hauptgrund für das hohe Alter der Italiener?

in der gesunden Ernährung (Olivenöl)

8.) In welchem Bereich liegt Italien nach Frankreich an zweiter Stelle?

in der Weinproduktion

2. Bedeutende Städte

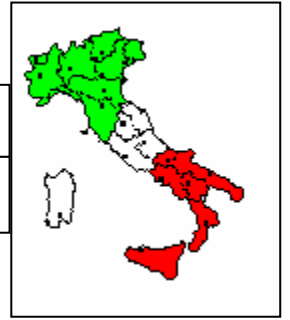
☺ Auftrag b

Einige bedeutende Städte und deren Sehenswürdigkeiten kennen lernen (Partnerarbeit)

Schließe dich einem Mitschüler an und löst dann gemeinsam folgenden Arbeitsauftrag: Schneidet die Bilder der italienischen Städten (Vorlage 1) und die Beschreibungen (Informationsblatt 4) aus und ordnet sie den entsprechenden Städtenamen (Arbeitsblatt 3) zu. Wenn ihr unsicher seid, nehmt Nachschlagewerke (Länderlexikon, Brockhaus, Encharta...) und euer Erdkundebuch zu Hilfe. An Hand von Lösungsblatt 3 könnt ihr dann kontrollieren, ob ihr die Aufgabe richtig gelöst habt.

Name: _____ Klasse: _____ Datum: _____

Arbeitsblatt 3: Bedeutende Städte



Mailand

Genua

Rom

Venedig

Turin

Bologna

Florenz

Neapel

Palermo

Informationsblatt 4: Bedeutende Städte

Die größte Stadt und zugleich Hauptstadt Italiens hat rund 2,8 Millionen Einwohner und ist ein kulturelles als auch überragendes touristisches Zentrum. Sie ist die Stadt der Beamten und Angestellten, weil dort neben der Regierung alle Behörden und zahllose Firmen ihren Sitz haben. Hier befinden sich über 600 kirchliche Bauwerke, die Peterskirche ist wohl das bekannteste davon. Der Trevibrunnen und die Spanische Treppe sind weitere berühmte Sehenswürdigkeiten dieser Stadt.

Die Galleria ist eine Ladenpassage mit vielen Geschäften und Cafés in dieser Stadt. Durch den Zuzug vieler Bewohner aus dem verarmten Süden wurde diese Stadt mit ihrer Börse und vielen Messen zu Italiens führender Finanz-, Industrie- und Handelsmetropole des reicheren Norden. Sie hat ca. 1,7 Millionen Einwohner, zu den berühmtesten Sehenswürdigkeiten zählen der gotische Marmordom und die Oper (Teatro alla Scala).

Diese Stadt liegt am Arno und zählt rund 460 000 Einwohner. Unzählige Kunstschatze und Bauwerke aus der Renaissance können hier besichtigt werden; zu den berühmtesten Museen gehören die Uffizien, der Palazzo Pitti und das Nationalmuseum Bargello. Menschen aus aller Welt kommen hierher, um sich an der berühmten Kunstakademie weiterzubilden. Die bekannte Bankiersfamilie der Medici hatte Jahrhunderte lang die Herrschaft über diese wunderschöne Stadt inne.

Diese Stadt mit ihren 1,2 Millionen Einwohnern spiegelt den ärmeren Süden des Landes wider. Das Stadtbild ist geprägt durch ein Netz von kleinen Betrieben, Geschäften und Straßenhändlern, die am Rande des Überlebens wirtschaften. Sehenswürdigkeiten dieser süditalienischen Hafenstadt sind der Königliche Palast, der gotische Dom und das Castell dell'Ovo. Auch ein Ausflug zum nahe gelegenen Vesuv lohnt sich allemal.

Diese Stadt hat circa 730 000 Einwohner, liegt an der Nordküste Siziliens und zählt zu den bedeutendsten italienischen Hafen- und Handelsstädten. Besonders sehenswert ist der Dom aus dem 12./13. Jahrhundert mit seinen byzantinischen Mosaiken. Kulturliebhaber können aber in dieser Stadt noch weitere 300 Kirchen bewundern. Zu den wichtigsten Industriezweigen gehören die Ölraffinerie, der Schiffbau, die Textil- und Glasindustrie.

Diese Stadt hat rund 1 Million Einwohner und bildet mit Mailand und Genua das sogenannte Industriedreieck des Landes. Besonders vertreten sind die Autoindustrie und der Maschinenbau, in denen viele Menschen Arbeit finden. Die Kathedrale und zahlreiche barocke Paläste und Kirchen gehören zu den Sehenswürdigkeiten der Stadt. Viele Menschen besuchen sie aber, um das berühmte Grabtuch, eine seit etwa 1350 als Grabtuch Christi verehrte Leinwand, zu sehen. Im Jahr 2006 wurden hier die Olympischen Winterspiele abgehalten.

Diese Stadt hat ca. 722 000 Einwohner, eine große Zahl an prunkvollen Kirchen und Palästen und einen besonders berühmten Friedhof. Bereits im Mittelalter war sie eine wichtige Handelsmacht am Mittelmeer und auch heute noch lebt sie als größte italienische Hafenstadt vom Handel mit fremden Ländern. Aus dieser Stadt stammt wahrscheinlich der berühmte Seefahrer Christoph Kolumbus.

Mit ihren ca. 427 000 Einwohnern liegt diese Stadt im Herzen Norditaliens und ist durch diese geographische Lage zum wichtigsten Eisenbahn- und Autobahnknotenpunkt des Landes geworden. Außerdem befindet sich hier die älteste Universität Europas und eine Kunstakademie. Wahrzeichen der Stadt sind die schiefen Geschlechtertürme.

Erbaut auf rund 120 Sandinseln, die durch 160 Kanäle voneinander getrennt, zugleich aber durch 400 Brücken miteinander verbunden sind, war diese Stadt bereits im Altertum und im Mittelalter eine äußerst wichtige Seefahrer- und Handelsstadt. Heute hat sie ca. 331 000 Einwohner und ist schon wegen des Boots- und Gondelverkehrs besonders auf dem Canal Grande sehenswert. Aber auch den Markusplatz mit dem Markusdom, dem Dogenpalast, der Seufzerbrücke und dem 99 m hohen Campanile sollte jeder Besucher gesehen haben.

Vorlage 1: Bedeutende Städte



Lösungsblatt 3: Bedeutende Städte

Rom



Rom: Spanische Treppe
(Quelle: Bertelsmann)

Die größte Stadt und zugleich Hauptstadt Italiens hat rund 2,8 Millionen Einwohner und ist ein kulturelles als auch überragendes touristisches Zentrum. Sie ist die Stadt der Beamten und Angestellten, weil dort neben der Regierung alle Behörden und zahllose Firmen ihren Sitz haben. Hier befinden sich über 600 kirchliche Bauwerke, die Peterskirche ist wohl das bekannteste davon. Der Trevibrunnen und die Spanische Treppe sind weitere berühmte Sehenswürdigkeiten dieser Stadt.

Mailand

Die Galleria ist eine Ladenpassage mit vielen Geschäften und Cafés in dieser Stadt. Durch den Zuzug vieler Bewohner aus dem verarmten Süden wurde diese Stadt mit ihrer Börse und vielen Messen zu Italiens führender Finanz-, Industrie- und Handelsmetropole des reicheren Norden. Sie hat ca. 1,7 Millionen Einwohner, zu den berühmtesten Sehenswürdigkeiten zählen der gotische Marmordom und die Oper (Teatro alla Scala).



Mailand: Dom
(Quelle: Bertelsmann)

Florenz



Florenz: Palazzo Vecchio
(Quelle: Bertelsmann)

Diese Stadt liegt am Arno und zählt rund 460 000 Einwohner. Unzählige Kunstschätze und Bauwerke aus der Renaissance können hier besichtigt werden; zu den berühmtesten Museen gehören die Uffizien, der Palazzo Pitti und das Nationalmuseum Bargello. Menschen aus aller Welt kommen hierher, um sich an der berühmten Kunstakademie weiterzubilden. Die bekannte Bankiersfamilie der Medici hatte Jahrhunderte lang die Herrschaft über diese wunderschöne Stadt inne.

Neapel

Diese Stadt mit ihren 1,2 Millionen Einwohnern spiegelt den ärmeren Süden des Landes wider. Das Stadtbild ist geprägt durch ein Netz von kleinen Betrieben, Geschäften und Straßenhändlern, die am Rande des Überlebens wirtschaften. Sehenswürdigkeiten dieser süditalienischen Hafenstadt sind der Königliche Palast, der gotische Dom und das Castell dell'Ovo. Auch ein Ausflug zum nahe gelegenen Vesuv lohnt sich allemal.



Neapel: Stadtbild mit Vesuv
(Quelle: Bertelsmann)



Palermo: Dom
(Quelle: Bertelsmann)

Palermo

Diese Stadt hat circa 730 000 Einwohner, liegt an der Nordküste Siziliens und zählt zu den bedeutendsten italienischen Hafen- und Handelsstädten. Besonders sehenswert ist der Dom aus dem 12./13. Jahrhundert mit seinen byzantinischen Mosaiken. Kulturliebhaber können aber in dieser Stadt noch weitere 300 Kirchen bewundern. Zu den wichtigsten Industriezweigen gehören die Ölraffinerie, der Schiffbau, die Textil- und Glasindustrie.

Turin

Diese Stadt hat rund 1 Million Einwohner und bildet mit Mailand und Genua das so genannte Industriedreieck des Landes. Besonders vertreten sind die Autoindustrie und der Maschinenbau, in denen viele Menschen Arbeit finden. Die Kathedrale und zahlreiche barocke Paläste und Kirchen gehören zu den Sehenswürdigkeiten der Stadt. Viele Menschen besuchen sie aber, um das berühmte Grabtuch, eine seit etwa 1350 als Grabtuch Christi verehrte Leinwand, zu sehen.



Turin: Biblioteca Medicea
(Quelle: Wikipedia)

Genua



Diese Stadt hat ca. 722 000 Einwohner, eine große Zahl an prunkvollen Kirchen und Palästen und einen besonders berühmten Friedhof. Bereits im Mittelalter war sie eine wichtige Handelsmacht am Mittelmeer und auch heute noch lebt sie als größte italienische Hafenstadt vom Handel mit fremden Ländern. Aus dieser Stadt stammt wahrscheinlich der berühmte Seefahrer Christoph Kolumbus.

Bologna

Mit ihren ca. 427 000 Einwohnern liegt diese Stadt im Herzen Norditaliens und ist durch diese geographische Lage zum wichtigsten Eisenbahn- und Autobahnknotenpunkt des Landes geworden. Außerdem befindet sich hier die älteste Universität Europas und eine Kunstakademie. Wahrzeichen der Stadt sind die schiefen Geschlechtertürme.



Bologna: Schiefer Turm
(Quelle: Wikipedia)

Venedig

Erbaut auf rund 120 Sandinseln, die durch 160 Kanäle voneinander getrennt, zugleich aber durch 400 Brücken miteinander verbunden sind, war diese Stadt bereits im Altertum und im Mittelalter eine äußerst wichtige Seefahrer- und Handelsstadt. Heute hat sie ca. 331 000 Einwohner und ist schon wegen des Boots- und Gondelverkehrs besonders auf dem Canal Grande sehenswert. Aber auch den Markusplatz mit dem Markusdom, dem Dogenpalast, der Seufzerbrücke und dem 99 m hohen Campanile sollte jeder Besucher gesehen haben.



Venedig: Markusplatz
(Quelle: Bertelsmann)

3. Der italienische Staat - Verwaltungsgliederung

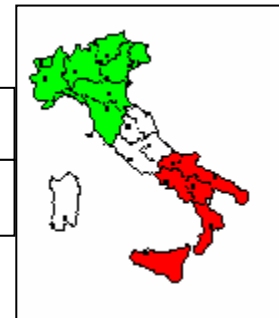
☺ Auftrag c

Grundbegriffe und Verwaltungsaufbau des italienischen Staates kennen lernen (Einzelarbeit)

Lies zunächst in deinem Lehrbuch aus Politische Bildung („Miteinander leben“) auf Seite 58 die Informationen zum Begriff „Staat“ aufmerksam durch. Lege dann das Buch zur Seite und überprüfe, wie viele Informationen du dir gemerkt hast, indem du den Lückentext auf Arbeitsblatt 4 vervollständigst. Um dir die Arbeit zu erleichtern, sind die Lückenwörter – allerdings ungeordnet – am Ende der Seite angegeben. Anschließend kannst du an Hand von Lösungsblatt 4 kontrollieren, ob du die Lücken richtig gefüllt hast!

Name: _____ Klasse: _____ Datum: _____

Arbeitsblatt 4: Der italienische Staat - Verwaltungsgliederung



Unter dem Begriff „Staat“ versteht man eine Gemeinschaft von Menschen, die in einem bestimmten Gebiet lebt (_____). Angehörige dieses Staates nennt man _____. Sie haben also dieselbe _____, müssen aber nicht dieselbe Muttersprache sprechen. Innerhalb eines Staatsgebietes gelten für alle Bürger die gleichen _____, die von _____ ausgeführt werden und deren Einhaltung von den _____ überwacht wird. Das ist die _____.

Das Grundgesetz des Staates nennt man _____. Grundgesetz bedeutet, dass es die grundlegenden Merkmale des betreffenden Staates im Allgemeinen beschreibt und alle anderen Gesetze nicht gegen Aussagen der Verfassung verstoßen dürfen. Das wird vom _____ überwacht.

Die italienische Verfassung ist seit 1. Januar 1948 in Kraft und besteht aus _____:

- „Grundlegende Rechtssätze“ (Art. 1-12), z.B. Menschenrechte, Recht auf Arbeit, Religionsfreiheit u.ä.
- Teil I: „Rechte und Pflichten der Staatsbürger“ (Art. 13-54)
- Teil II: „Aufbau der Republik“ (Art. 55-139)

Lückenwörter:

139 Artikeln, Gesetze, Verfassung, Staatsbürger, Staatsgewalt, Beamten, Verfassungsgericht, Richtern, Staatsgebiet, Staatsangehörigkeit

Lösungsblatt 4: Der italienische Staat - Verwaltungsgliederung

Unter dem Begriff „Staat“ versteht man eine Gemeinschaft von Menschen, die in einem bestimmten Gebiet lebt (**Staatsgebiet**). Angehörige dieses Staates nennt man **Staatsbürger**. Sie haben also dieselbe **Staatsangehörigkeit**, müssen aber nicht dieselbe Muttersprache sprechen. Innerhalb eines Staatsgebietes gelten für alle Bürger die gleichen **Gesetze**, die von **Beamten** ausgeführt werden und deren Einhaltung von den **Richtern** überwacht wird. Das ist die **Staatsgewalt**.

Das Grundgesetz des Staates nennt man **Verfassung**. Grundgesetz bedeutet, dass es die grundlegenden Merkmale des betreffenden Staates im Allgemeinen beschreibt und alle anderen Gesetze nicht gegen Aussagen der Verfassung verstoßen dürfen. Das wird vom **Verfassungsgericht** überwacht.

Die italienische Verfassung ist seit 1. Januar 1948 in Kraft und besteht aus **139 Artikeln**:

- „Grundlegende Rechtssätze“ (Art. 1-12), z.B. Menschenrechte, Recht auf Arbeit, Religionsfreiheit u.ä.
- Teil I: „Rechte und Pflichten der Staatsbürger“ (Art. 13-54)
- Teil II: „Aufbau der Republik“ (Art. 55-139)

☺ Auftrag d

Detailliertes Wissen über Italiens Staats- und Regierungsform erwerben (Einzelarbeit)

Italien ist seit 1946 eine **demokratische Republik**; vorher war es eine **Monarchie**, die in der Zeit des Faschismus **diktatorisch** regiert wurde.

In dieser Information findest du vier Begriffe, die du genauer betrachten sollst:

- demokratisch (Demokratie)
- diktatorisch (Diktatur)
- Republik
- Monarchie

Vielleicht hast du im Geschichtsunterricht bereits davon gehört, ansonsten solltest du dir in deinem Lehrbuch aus „Politische Bildung“ (Seite 60-61), in einem Lexikon oder im Internet die nötigen Informationen zu diesen Begriffen holen. Kläre außerdem die beiden Begriffe „Staatsform“ und „Regierungsform“, damit du dann in der Lage bist, folgenden Auftrag zu erledigen:

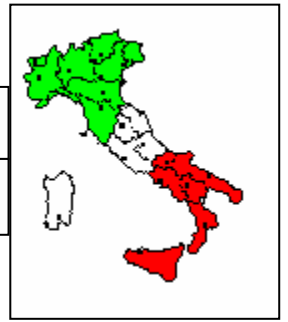
Ordne die verschiedenen Aussagen und Begriffe der entsprechenden Spalte auf Arbeitsblatt 5 zu! Kontrolliere anschließend an Hand von Lösungsblatt 5 die Ergebnisse!

- *Freiheit und Gleichheit*
- *Den Staat vertritt ein gewählter Staatspräsident.*
- *Die Bürger wählen das Parlament in persönlicher, freier, gleicher, geheimer Wahl.*
- *beschränkte Freiheit und Ungleichheit*
- *Zwang durch Befehl*
- *An der Spitze des Staates steht ein/e König/in, Fürst/in, Herzog/in.*
- *Es gibt mehrere Parteien, die sich an der Regierung beteiligen.*
- *Die staatliche Gewalt ist aufgeteilt und kontrolliert sich gegenseitig.*
- *Volksherrschaft*
- *Jeder Staatsbürger kann unter bestimmten Voraussetzungen zum Staatsoberhaupt gewählt werden.*
- *Zusammenballung der Staatsgewalt, also keine Gewaltenteilung*
- *Anerkennung der Mehrheitsentscheidung*
- *Staatsgewalt geht vom Diktator aus.*

○ *Es gibt eine Verfassung, deren Einhaltung überwacht wird.*

Name: _____ Klasse: _____ Datum: _____

Arbeitsblatt 5: Staats- und Regierungsform



S t a a t s f o r m

Monarchie	Republik

R e g i e r u n g s f o r m

Demokratie	Diktatur

Lösungsblatt 5: Staats- und Regierungsform

Staatsform

Monarchie	Republik
<ul style="list-style-type: none">○ An der Spitze des Staates steht ein/e König/in, Fürst/in, Herzog/in.	<ul style="list-style-type: none">○ Den Staat vertritt ein gewählter Staatspräsident.○ Jeder Staatsbürger kann unter bestimmten Voraussetzungen zum Staatsoberhaupt gewählt werden.

Regierungsform

Demokratie	Diktatur
<ul style="list-style-type: none">○ Es gibt eine Verfassung, deren Einhaltung überwacht wird.○ Es gibt mehrere Parteien, die sich an der Regierung beteiligen.○ Die Bürger wählen das Parlament in persönlicher, freier, gleicher, geheimer Wahl.○ Die staatliche Gewalt ist aufgeteilt und kontrolliert sich gegenseitig.○ Freiheit und Gleichheit○ Volksherrschaft○ Anerkennung der Mehrheitsentscheidung	<ul style="list-style-type: none">○ Beschränkte Freiheit und Ungleichheit○ Staatsgewalt geht vom Diktator aus○ Zusammenballung der Staatsgewalt, also keine Gewaltenteilung○ Zwang durch Befehl

--	--

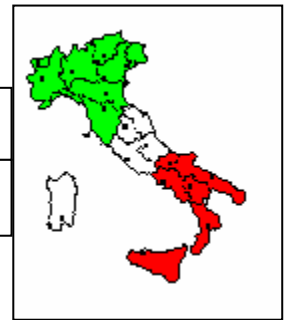
☺ Auftrag e

Detailliertes Wissen über die politische Gliederung Italiens und die Autonomie einzelner Regionen erwerben (Einzelarbeit)

Lies dir zunächst das Kapitel 2.2 in deinem Erdkundebuch (Seite 73-74) und die Seite 38 in deinem Lehrbuch aus Politische Bildung durch, damit du die Aufgaben auf Arbeitsblatt 6 und Vorlage 2 ausführen kannst. Kontrolliere anschließend an Hand der Lösungsblätter 6 und 7!

Name: _____ Klasse: _____ Datum: _____

Arbeitsblatt 6: Politische Gliederung – Autonome Regionen



1.) Bringe die folgenden Begriffe und Zahlen in die richtige Reihenfolge und bilde dann einen sinnvollen Merksatz mit dem Titel „Politische Gliederung Italiens“!

Provinzen – Staatsgebiet – 95 – Regionen – mehr als 8 000 – Gemeinden - 20

2.) Warum wird der Staat Italien in Regionen unterteilt?

3.) Erkläre die Begriffe „Autonomie“ und „Sonderstatut“!

4.) Fünf Regionen erhielten innerhalb des Staates Italien ein Sonderstatut. Finde ihre Namen heraus, indem du die durcheinander geratenen Buchstaben richtig ordnest, male sie auf der Regionenkarte (Vorlage 2) an und benenne sie! Schreibe auch noch dazu, warum sie jeweils ein Sonderstatut erhielten!

osAat _____

rinTeton-ürlSdiot _____

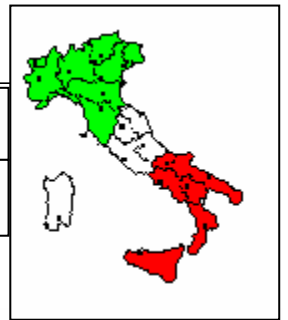
zlineSii _____

Sdanriine _____

Fluair-hcsliJu-tVneccein _____

Name: _____ Klasse: _____ Datum: _____

Vorlage 2: Politische Gliederung – Autonome Regionen



Lösungsblatt 6: Politische Gliederung – Autonome Regionen

1.) *Bringe die folgenden Begriffe und Zahlen in die richtige Reihenfolge und bilde dann einen sinnvollen Merksatz mit dem Titel „Politische Gliederung Italiens“!*

Provinzen – Staatsgebiet – 95 – Regionen – mehr als 8 000 – Gemeinden - 20

Politische Gliederung Italiens

Das italienische Staatsgebiet gliedert sich in 20 Regionen, diese werden in 95 Provinzen und diese wiederum in mehr als 8 000 Gemeinden eingeteilt.

2.) *Warum wird der Staat Italien in Regionen unterteilt?*

Die Regionen können sich zum Teil selbst verwalten und eigene Gesetze erlassen, vor allem in den Bereichen Raumordnung, Verkehrsplanung, Bodennutzung u.ä. Dadurch werden Kosten und Zeit gespart, da über Fragen in den oben genannten Bereichen nicht in Rom diskutiert und entschieden werden muss und so die Verwaltung nicht nur zentral von der Hauptstadt Rom aus erfolgt. Allerdings müssen alle Gesetze im Rahmen der italienischen Verfassung bleiben und mit den Grundsätzen der italienischen Rechtsordnung übereinstimmen.

3.) *Erkläre die Begriffe „Autonomie“ und „Sonderstatut“!*

Der Begriff „Autonomie“ bedeutet Selbstständigkeit bzw. Unabhängigkeit und meint im Zusammenhang mit Italiens Regionen, dass diese in bestimmten Bereichen selbst entscheiden und eigene Gesetze erlassen können. Auf Grund bestimmter Voraussetzungen (Insellage, sprachliche Besonderheiten u.a.) erhielten einige Regionen ein sog. Sonderstatut, das sind Regelungen, die ihnen mehr Autonomie einräumen als anderen Regionen.

4.) *Fünf Regionen erhielten innerhalb des Staates Italien ein Sonderstatut. Finde ihre Namen heraus, indem du die durcheinander geratenen Buchstaben richtig ordnest, male sie auf der Regionenkarte (Vorlage 1) an und benenne sie! Schreibe auch noch dazu, warum sie jeweils ein Sonderstatut erhielten!*

osAat **Aosta:** Region mit anderer Sprache, Kultur und Lebensweise

rinTeton-ürlSdiot **Trentino-Südtirol:** Region mit anderer Sprache, Kultur und Lebensweise

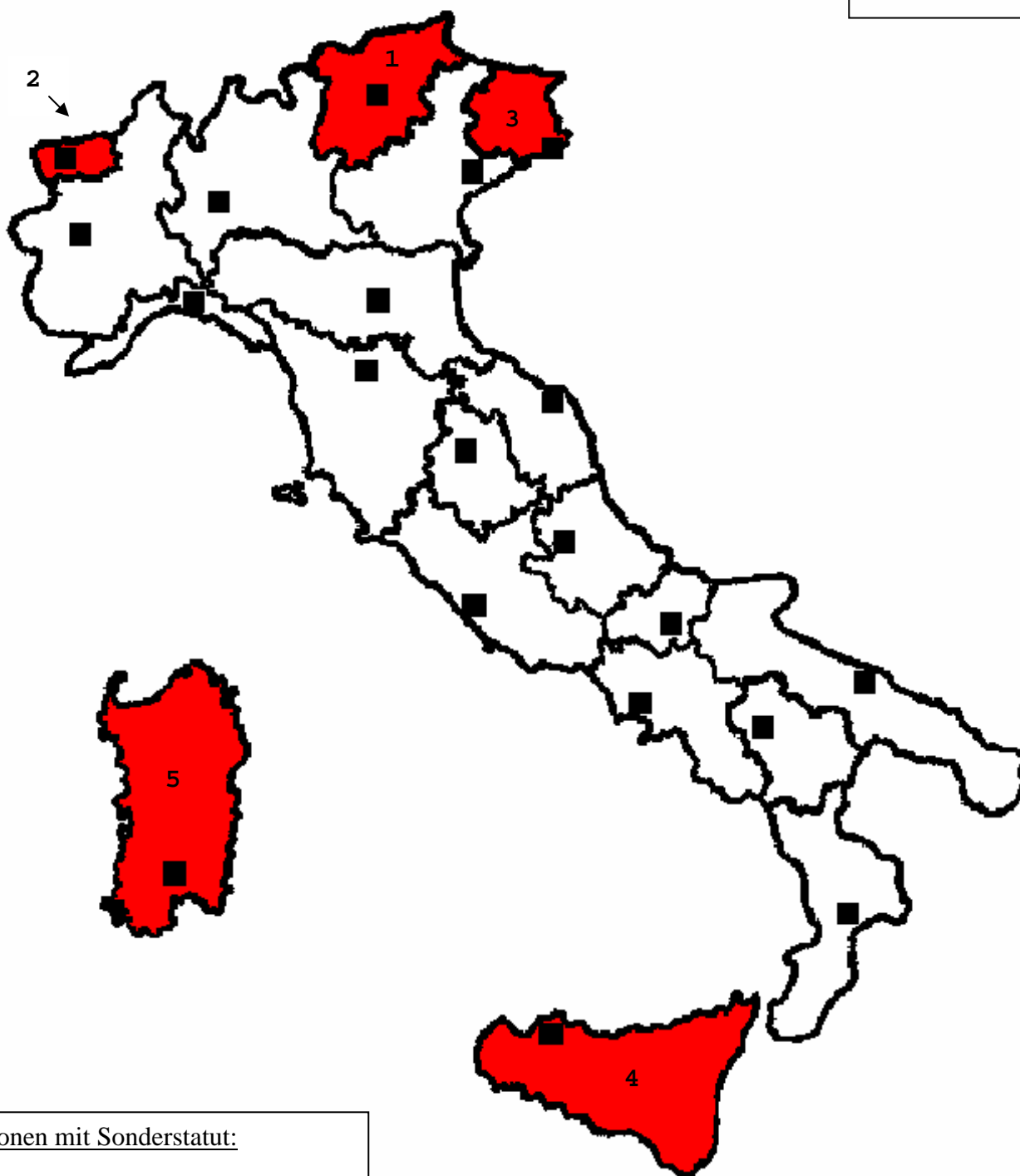
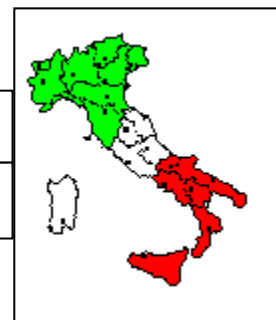
zlineSii **Sizilien:** Region mit geographischer Randlage

Sdanriine **Sardinien:** Region mit geographischer Randlage

Fluair-hcsliJu-tVneeein **Friaul-Julisch-Venetien:** Region mit besonderer geographischer Lage (Erdbebengefährdung)

Name: _____ Klasse: _____ Datum: _____

Lösungsblatt 7: Politische Gliederung – Autonome Regionen



Regionen mit Sonderstatut:

1. Trentino-Südtirol
2. Aosta
3. Friaul-Julisch-Venetien
4. Sizilien
5. Sardinien

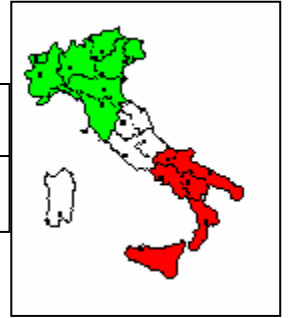
Differenzierung: ☺ Auftrag cde1

In groben Zügen den Staat Italien in politischer Hinsicht kennen lernen (Einzelarbeit)

Lies zunächst in deinem Lehrbuch aus Politische Bildung („Miteinander leben“) die Seiten 38 und 58 durch. Außerdem hilft dir das Kapitel 2.2 aus deinem Erdkundebuch (Seite 73-74) beim nächsten Arbeitsauftrag. Lege nach aufmerksamer Lektüre die Bücher zur Seite und überprüfe, wie viele Informationen du dir gemerkt hast, indem du die Lückentexte auf Arbeitsblatt 7 und 8 vervollständigst. Um dir die Arbeit zu erleichtern, sind die Lückenwörter – allerdings ungeordnet – jeweils am Ende der Seite angegeben. Anschließend kannst du an Hand der Lösungsblätter 7, 8 und 9 kontrollieren, ob du die Lücken richtig gefüllt bzw. die Kartenarbeit korrekt ausgeführt hast!

Name: _____ Klasse: _____ Datum: _____

Arbeitsblatt 7: Der Staat Italien in politischer Hinsicht



Unter dem Begriff „Staat“ versteht man eine Gemeinschaft von Menschen, die in einem bestimmten Gebiet lebt (_____). Angehörige dieses Staates nennt man _____. Sie haben also dieselbe _____, müssen aber nicht dieselbe Muttersprache sprechen. Innerhalb eines Staatsgebietes gelten für alle Bürger die gleichen _____, die von _____ ausgeführt werden und deren Einhaltung von den _____ überwacht wird. Das ist die _____.

Das Grundgesetz des Staates nennt man _____. Grundgesetz bedeutet, dass es die grundlegenden Merkmale des betreffenden Staates im Allgemeinen beschreibt und alle anderen Gesetze nicht gegen Aussagen der Verfassung verstoßen dürfen. Das wird vom _____ überwacht. Die italienische Verfassung ist seit 1. Januar 1948 in Kraft und besteht aus _____.

Der Staat Italien wird _____ regiert, das bedeutet, dass das Volk Vertreter in die Regierung wählen und dadurch mitbestimmen darf. Das Gegenteil dieser Regierungsform ist die _____, also die Alleinherrschaft eines Einzelnen.

Lückenwörter:

139 Artikeln, Gesetze, demokratisch, Verfassung, Staatsbürger, Staatsgewalt, Beamten, Verfassungsgericht, Richtern, Staatsgebiet, Diktatur, Staatsangehörigkeit

Lösungsblatt 8: Der Staat Italien in politischer Hinsicht

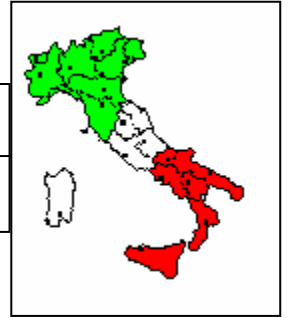
Unter dem Begriff „Staat“ versteht man eine Gemeinschaft von Menschen, die in einem bestimmten Gebiet lebt (**Staatsgebiet**). Angehörige dieses Staates nennt man **Staatsbürger**. Sie haben also dieselbe **Staatsangehörigkeit**, müssen aber nicht dieselbe Muttersprache sprechen. Innerhalb eines Staatsgebietes gelten für alle Bürger die gleichen **Gesetze**, die von **Beamten** ausgeführt werden und deren Einhaltung von den **Richtern** überwacht wird. Das ist die **Staatsgewalt**.

Das Grundgesetz des Staates nennt man **Verfassung**. Grundgesetz bedeutet, dass es die grundlegenden Merkmale des betreffenden Staates im Allgemeinen beschreibt und alle anderen Gesetze nicht gegen Aussagen der Verfassung verstoßen dürfen. Das wird vom **Verfassungsgericht** überwacht. Die italienische Verfassung ist seit 1. Januar 1948 in Kraft und besteht aus **139 Artikeln**.

Der Staat Italien wird **demokratisch** regiert, das bedeutet, dass das Volk Vertreter in die Regierung wählen und dadurch mitbestimmen darf. Das Gegenteil dieser Regierungsform ist die **Diktatur**, also die Alleinherrschaft eines Einzelnen.

Name: _____ Klasse: _____ Datum: _____

Arbeitsblatt 8: Der Staat Italien in politischer Hinsicht



Politische Gliederung Italiens

Das italienische Staatsgebiet gliedert sich in _____, diese werden in _____ und diese wiederum in mehr als _____ eingeteilt.

Auf Grund bestimmter Voraussetzungen (Insellage, sprachliche Besonderheiten u.a.) erhielten _____ Regionen ein sogenanntes Sonderstatut, das sind Regelungen, die ihnen mehr _____ einräumen als anderen Regionen. Der Begriff „Autonomie“ bedeutet _____ bzw. Unabhängigkeit und meint in diesem Zusammenhang, dass diese Regionen in bestimmten Bereichen selbst entscheiden und eigene Gesetze erlassen können. Finde nun ihre Namen heraus, indem du die durcheinander geratenen Buchstaben richtig ordnest, male sie auf der Regionenkarte (Vorlage 2) an und benenne sie!

osAat _____

rinTeton-ürlSdiot _____

zlineSii _____

Sdanriine _____

Fluair-hcsliJu-tVneeein _____

Lückenwörter:

8000 Gemeinden, Autonomie, fünf, 20 Regionen, Selbstständigkeit, 95 Provinzen

Lösungsblatt 9: Der Staat Italien in politischer Hinsicht

Politische Gliederung Italiens

Das italienische Staatsgebiet gliedert sich in **20 Regionen**, diese werden in **95 Provinzen** und diese wiederum in mehr als **8000 Gemeinden** eingeteilt.

Auf Grund bestimmter Voraussetzungen (Insellage, sprachliche Besonderheiten u.a.) erhielten **fünf** Regionen ein sogenanntes Sonderstatut, das sind Regelungen, die ihnen mehr **Autonomie** einräumen als anderen Regionen. Der Begriff „Autonomie“ bedeutet **Selbstständigkeit** bzw. Unabhängigkeit und meint in diesem Zusammenhang, dass diese Regionen in bestimmten Bereichen selbst entscheiden und eigene Gesetze erlassen können.

Finde nun ihre Namen heraus, indem du die durcheinander geratenen Buchstaben richtig ordnest, male sie auf der Regionenkarte (Vorlage 2) an und benenne sie!

osAat **Aosta**

rinTeton-ürlSdiot **Trentino-Südtirol**

zlineSii **Sizilien**

Sdannriie **Sardinien**

Fluair-hcsliJu-tVneeein **Friaul-Julisch-Venetien**